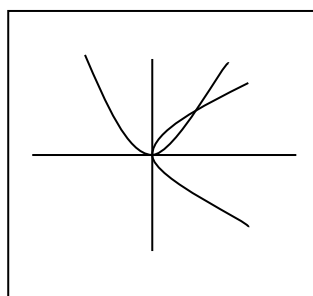


תרגיל 13 – מתמטיקה לכימאים ג'

1. חשבו $\int_C 1 ds$ כאשר C היא קשת הפרבולה $y^2 = 3x$ הנחתכת ע"י הפרבולה $x^2 = 3y$.

(שימו לב כי הכיוון של C לא נתון בשאלה. האם זה משנה?).
חשבו מה משמעות הגודל אותו חיבתם בסעיף זה.

פתרון:



נמצא את נקודות החיתוך בין הפרבולות:

$$\begin{cases} y^2 = 3x \Rightarrow x = \frac{y^2}{3} \\ x^2 = 3y \end{cases}$$

$$\left(\frac{y^2}{3}\right)^2 = 3y$$

$$\frac{y^4}{9} = 3y$$

$$y^4 = 27y$$

$$y(y^3 - 27) = 0$$

$$y = 0 \quad y^3 = 27$$

$$y = 3$$

$$(0,0) \quad (3,3)$$

לכן, העקומה המתוארת היא קשת הפרבולה $y^2 = 3x$ בין הנקודות $(0,0)$ ו $(3,3)$.

(מכיוון שמדובר באינטגרל מסוג ראשון, כיוון העקומה לא משנה).

$$\text{נמצא פרמטריזציה לעקומה: } x = \frac{y^2}{3} \Leftarrow y^2 = 3x$$

$$\gamma(t) = \left(\frac{t^2}{3}, t\right), \quad 0 \leq t \leq 3$$

מכיוון שמדובר באינטגרל מסוג ראשון, נחשב:

$$\gamma'(t) = \left(\frac{2t}{3}, 1\right)$$

$$\|\gamma'(t)\| = \sqrt{\left(\frac{2t}{3}\right)^2 + 1^2} = \sqrt{\frac{4t^2}{9} + 1} = \sqrt{\frac{4t^2 + 9}{9}} = \frac{\sqrt{4t^2 + 9}}{3}$$

לכן,

$$\int_C 1 ds = \int_0^3 1 \cdot \frac{\sqrt{4t^2 + 9}}{3} dt = \frac{1}{3} \int_0^3 \sqrt{(2t)^2 + 3^2} dt$$

באמצעות הנוסחה (שלא, אתם לא אמורים לזכור בע"פ)

$$\int \sqrt{x^2 + a^2} dx = \frac{1}{2} x \sqrt{x^2 + a^2} + \frac{1}{2} a^2 \ln |x + \sqrt{x^2 + a^2}|$$

נקבל:

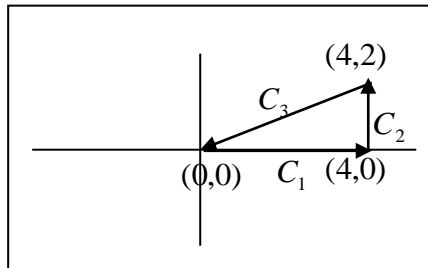
$$\begin{aligned} \int_C 1 ds &= \int_0^3 1 \cdot \frac{\sqrt{4t^2 + 9}}{3} dt = \frac{1}{3} \int_0^3 \sqrt{(2t)^2 + 3^2} dt = \frac{1}{3} \left[\frac{\frac{1}{2} 2t \sqrt{(2t)^2 + 3^2} + \frac{1}{2} 3^2 \ln |2t + \sqrt{(2t)^2 + 3^2}|}{2} \right]_0^3 \\ &= \frac{1}{3} \left(\frac{3\sqrt{6^2 + 3^2} + \frac{1}{2} 3^2 \ln(6 + \sqrt{6^2 + 3^2})}{2} - \frac{0 + \frac{1}{2} 3^2 \ln(0 + \sqrt{0^2 + 3^2})}{2} \right) \\ &= \frac{1}{6} \left(3\sqrt{45} + 4 \frac{1}{2} \ln(6 + \sqrt{45}) - 4 \frac{1}{2} \ln(3) \right) = \frac{1}{12} (6\sqrt{45} + 9 \ln(6 + \sqrt{45}) - 9 \ln(3)) = \frac{1}{12} (6\sqrt{45} + 9 \ln(2 + \sqrt{5})) = \\ &= \frac{1}{2} \sqrt{45} + \frac{3}{4} \ln(2 + \sqrt{5}) \approx 4.4368 \end{aligned}$$

2. חשבו את $\int_C xy^3 ds$ כאשר C הוא המשולש שקודקדיו $(0,0)$, $(4,0)$, $(4,2)$ וכיוונו נגד

כיוון השעון.

פתרון: שימו לב כי מכיוון שמדובר באינטגרל מסוג ראשון, על אף שמדובר על עקומה סגורה מכוונת חיובית, לא ניתן להשתמש במשפט גרין.

נצייר את העקום המתואר:



נשים לב,

$$\int_C xy^3 ds = \int_{C_1} xy^3 ds + \int_{C_2} xy^3 ds + \int_{C_3} xy^3 ds \stackrel{\text{first-type}}{=} \int_{C_1} xy^3 ds + \int_{C_2} xy^3 ds + \int_{-C_3} xy^3 ds$$

כאשר C_1, C_2, C_3 הם העקומים המופיעים בציור:

נמצא פרמטריזציה לעקומים $C_1, C_2, -C_3$.

(נשים לב, אין הכרח לעבור ל $-C_3$. יכולנו למצוא פרמטריזציה ל C_3 באמצעות הנוסחה לפרמטריזציה של ישר מנקודה A לנקודה B, אבל בד"כ יותר קל לעשות פרמטריזציה לפונקציה, בפרט למשוואת ישר, משמאל לימין).

עבור C_1 :

$$\gamma(t) = (t, 0) \quad 0 \leq t \leq 4$$

$$\gamma'(t) = (1, 0)$$

$$\|\gamma'(t)\| = \sqrt{1^2 + 0^2} = 1$$

עבור C_2 :

$$\gamma(t) = (4, t) \quad 0 \leq t \leq 2$$

$$\gamma'(t) = (0, 1)$$

$$\|\gamma'(t)\| = \sqrt{0^2 + 1^2} = 1$$

עבור $-C_3$: נמצא את משוואת הישר המתאים:

$$y - 0 = \frac{2}{4}(x - 0)$$

$$y = \frac{1}{2}x$$

מכיוון ש $-C_3$ – הולך משמאל לימין:

$$\gamma(t) = \left(t, \frac{1}{2}t\right) \quad 0 \leq t \leq 4$$

$$\gamma'(t) = \left(1, \frac{1}{2}\right)$$

$$\|\gamma'(t)\| = \sqrt{1^2 + \left(\frac{1}{2}\right)^2} = \frac{\sqrt{5}}{2}$$

לכן:

$$\int_C xy^3 ds = \int_{C_1} xy^3 ds + \int_{C_2} xy^3 ds + \int_{-C_3} xy^3 ds =$$

$$\int_0^4 t \cdot 0^3 \cdot 1 dt + \int_0^2 4 \cdot t^3 \cdot 1 dt + \int_0^4 t \cdot \left(\frac{t}{2}\right)^3 \cdot \frac{\sqrt{5}}{2} dt = 0 + \int_0^2 4t^3 dt + \frac{\sqrt{5}}{16} \int_0^4 t^4 dt = [t^4]_0^2 + \frac{\sqrt{5}}{16} \left[\frac{t^5}{5}\right]_0^4$$

$$= 16 + \frac{64\sqrt{5}}{5} = 16 + \frac{64}{\sqrt{5}} = 44.62$$

3. חשבו את אורך העקומות הבאות:

3.1. הקו הישר מהנקודה $(-1,3)$ לנקודה $(-2,4)$.

פתרון: עלינו לחשב $\int_C 1 ds$ כאשר C הוא הישר מהנקודה $(-1,3)$ לנקודה $(-2,4)$.
נמצא פרמטריזציה ל C .

$$\gamma(t) = (1-t)(-1,3) + t(-2,4) \quad 0 \leq t \leq 1$$

$$\gamma(t) = (-1+t, 3-3t) + (-2t, 4t)$$

$$\gamma(t) = (-1-t, 3+t)$$

נחשב:

$$\gamma'(t) = (-1,1)$$

$$\|\gamma'(t)\| = \sqrt{1+1} = \sqrt{2}$$

לכן, האורך המבוקש הוא:

$$Length = \int_C 1 ds = \int_0^1 \sqrt{2} dt = \sqrt{2}$$

(ניתן לחשב באמצעות פיתגורס, או הנוסחה למרחק בין שתי נקודות ולראות כי זהו אכן אורך הקטע).

3.2. האליפסה $\frac{x^2}{4} + \frac{y^2}{9} = 1$.

פתרון: עלינו לחשב $\int_C 1 ds$ כאשר C הוא האליפסה $\frac{x^2}{4} + \frac{y^2}{9} = 1$.
נמצא פרמטריזציה ל C .

$$\gamma(t) = (2\cos t, 3\sin t) \quad 0 \leq t \leq 2\pi$$

נחשב:

$$\gamma'(t) = (-2\sin t, 3\cos t)$$

$$\|\gamma'(t)\| = \sqrt{4\sin^2 t + 9\cos^2 t} = \sqrt{4\sin^2 t + 4\cos^2 t + 5\cos^2 t} = \sqrt{4 + 5\cos^2 t}$$

לכן, האורך המבוקש הוא:

$$Length = \int_0^{2\pi} \sqrt{4 + 5\cos^2 t} dt$$

אין צורך לדעת לחשב אינטגרל זה, לכן, נשאיר את התשובה כך.

(במבחן, אם יהיה תרגיל עם אינטגרציה מסובכת, הנוסחה לאינטגרל תופיע בדף הנוסחאות, וכל שיהיה צורך לעשות הוא להשתמש בה, כמו בשאלה האחרונה בתרגיל הקודם).

4. חשבו את אורך גרף הפונקציה עבור הפונקציות הבאות:

$$4.1 \quad y = \frac{1}{6}x^3 + \frac{1}{2x} \quad \text{עבור } 1 \leq x \leq 2.$$

פתרון:

נשתמש בנוסחה לאורך גרף של פונקציה $y = f(x)$ בתחום $a \leq x \leq b$:

$$length = \int_a^b \sqrt{1 + (f'(x))^2} dx$$

$$f'(x) = y' = \frac{1}{2}x^2 - \frac{1}{2x^2} \quad \text{אצלינו:}$$

והתחום: $1 \leq x \leq 2$.

לכן,

$$\begin{aligned} length &= \int_1^2 \sqrt{1 + \left(\frac{1}{2}x^2 - \frac{1}{2x^2}\right)^2} dx = \int_1^2 \sqrt{1 + \frac{1}{4}x^4 - 2 \cdot \frac{1}{2}x^2 \cdot \frac{1}{2x^2} + \frac{1}{4x^4}} dx = \\ &= \int_1^2 \sqrt{1 + \frac{1}{4}x^4 - \frac{1}{2} + \frac{1}{4x^4}} dx = \int_1^2 \sqrt{\frac{1}{4}x^4 + \frac{1}{2} + \frac{1}{4x^4}} dx = \int_1^2 \sqrt{\frac{1}{4}x^4 + 2 \cdot \frac{1}{2}x^2 \cdot \frac{1}{2x^2} + \frac{1}{4x^4}} dx = \\ &= \int_1^2 \sqrt{\left(\frac{1}{2}x^2 + \frac{1}{2x^2}\right)^2} dx = \int_1^2 \left(\frac{1}{2}x^2 + \frac{x^{-2}}{2}\right) dx = \left[\frac{1}{6}x^3 + \frac{x^{-1}}{-2}\right]_1^2 = \left[\frac{1}{6}x^3 - \frac{1}{2x}\right]_1^2 = \\ &= \left(\frac{8}{6} - \frac{1}{4}\right) - \left(\frac{1}{6} - \frac{1}{2}\right) = 1\frac{5}{12} \end{aligned}$$

$$4.2 \quad y = x^2 - \frac{1}{8} \ln x \quad \text{עבור } 1 \leq x \leq 3.$$

פתרון:

נשתמש בנוסחה לאורך גרף של פונקציה $y = f(x)$ בתחום $a \leq x \leq b$:

$$length = \int_a^b \sqrt{1 + (f'(x))^2} dx$$

$$f'(x) = y' = 2x - \frac{1}{8x} \quad \text{אצלינו:}$$

והתחום: $1 \leq x \leq 3$.

לכן,

$$\begin{aligned}
 \text{length} &= \int_1^3 \sqrt{1 + \left(2x - \frac{1}{8x}\right)^2} dx = \int_1^3 \sqrt{1 + 4x^2 - 2 \cdot 2x \cdot \frac{1}{8x} + \frac{1}{64x^2}} dx = \\
 &= \int_1^3 \sqrt{1 + 4x^2 - \frac{1}{2} + \frac{1}{64x^2}} dx = \int_1^3 \sqrt{4x^2 + \frac{1}{2} + \frac{1}{64x^2}} dx = \int_1^3 \sqrt{\left(2x + \frac{1}{8x}\right)^2} dx = \int_1^3 \left(2x + \frac{1}{8x}\right) dx \\
 &= \left[x^2 + \frac{1}{8} \ln x \right]_1^3 = \left(9 + \frac{1}{8} \ln 3 \right) - 1 = 8 + \frac{1}{8} \ln 3 = 8.137
 \end{aligned}$$

5. חשבו את האינטגרלים הקווים הבאים:

5.1 $\int_C -y dx + x dy$ לאורך $y^2 = 3x$ מהנקודה $(0,0)$ עד לנקודה $(3,3)$.

5.2 $\int_C -y dx + x dy$ לאורך $y^2 = 3x$ מהנקודה $(3,3)$ עד לנקודה $(0,0)$.

5.3 $\int_C xy dx + (y-x) dy$ לאורך $y = x^3$ מהנקודה $(1,1)$ עד לנקודה $(0,0)$.

5.4 $\int_C y dx + x dy$ כאשר C הוא המעגל $x = R \cos t, y = R \sin t$ מ $t = 0$ ל $t = 2\pi$.

5.5 $\oint_C 3xy dx + 2xy dy$ כאשר C היא המלבן החסום ע"י הישרים

$$x = -2, x = 4, y = 1, y = 2$$

5.6 $\int_C \ln(1+y) dx - \frac{xy}{1+y} dy$ כאשר C היא המשולש שקודקודיו הם $(0,0), (2,0), (0,4)$.

5.7 $\oint_C (2xy - y) dx + x^2 dy$ כאשר C היא המעגל $x^2 + y^2 = R^2$.

בהצלחה! 😊

(3.3) אזור (0,0) מוקף על ידי $y^2=3x$ וקו $\int_C -y dx + x dy$ 4.1

הצורה הכללית של $\int_C -y dx + x dy$

$$x = \frac{y^2}{3}$$

$$\delta(t) = \left(\frac{t^2}{3}, t \right) \quad 0 \leq t \leq 3$$

$$\int_C -y dx + x dy = \int_0^3 \left(t \cdot \frac{2t}{3} + \frac{t^2}{3} \right) dt = \int_0^3 \left(-\frac{2t^2}{3} + \frac{t^2}{3} \right) dt = -\frac{1}{3} \int_0^3 t^2 dt$$

$$= -\frac{1}{3} \frac{t^3}{3} \Big|_0^3 = -\frac{27}{9} = -3$$

(0,0) אזור (3.3) מוקף על ידי $y^2=3x$ וקו $\int_C -y dx + x dy$ 4.2

$$\int_C -y dx + x dy = - \int_{-C} -y dx + x dy = -(-3) = 3$$

הצורה הכללית של

$$\int_{-C} -y dx + x dy = -(-3) = 3$$

(0,0) אזור (4.1) מוקף על ידי $y=x^3$ וקו $\int_C xy dx + (y-x) dy$ 4.3

הצורה הכללית של $\int_C xy dx + (y-x) dy$

$$\delta(t) = (t, t^3) \quad 0 \leq t \leq 1$$

$$\int_C xy dx + (y-x) dy = - \int_C xy dx + (y-x) dy = - \int_0^1 (t^4 \cdot 1 + (t^3 - t) \cdot 3t^2) dt$$

2.50
:pl.

$$= - \int_0^1 (t^4 + 3t^5 - 3t^3) dt = - \left[\frac{t^5}{5} + \frac{t^6}{2} - \frac{3}{4}t^4 \right]_0^1 = - \left(\frac{1}{5} + \frac{1}{2} - \frac{3}{4} \right) = - \left(-\frac{1}{20} \right) = \frac{1}{20}$$

Scam ban km c neko $\int_C y dx + x dy$

4.4

$$t=2\pi \quad | \quad t=0 \quad N \quad x=R\cos t, \quad y=R\sin t$$

$$\int_C y dx + x dy = \int_0^{2\pi} (R\sin t(-R\sin t) + R\cos t(R\cos t)) dt =$$

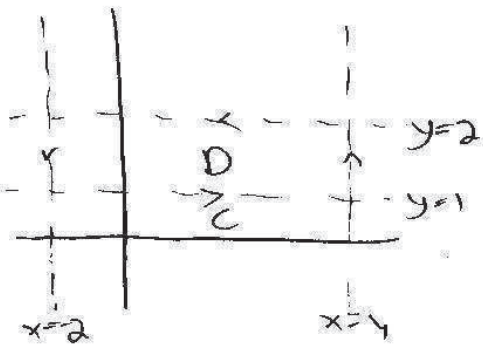
$$\int_0^{2\pi} (-R^2 \sin^2 t + R^2 \cos^2 t) dt = R^2 \int_0^{2\pi} (\cos^2 t - \sin^2 t) dt = R^2 \int_0^{2\pi} \cos 2t dt$$

$$= \left. \frac{R^2 \sin 2t}{2} \right|_0^{2\pi} = 0$$

ponem 8 pomn poln km c neko $\int_C 3xy dx + 2xy dy$

4.5

$$x=-2, x=4, y=1, y=2$$



ponem poln km c neko $\int_C 3xy dx + 2xy dy$

:pr cerna enrej

$$P = 3xy$$

$$P_y = 3x$$

:pmo

$$Q = 2xy$$

$$Q_x = 2y$$

:pr cerna al pl

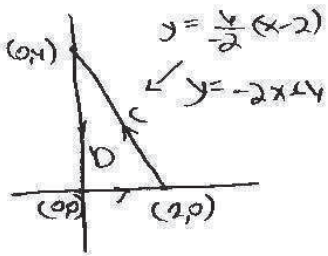
$$\int_C 3xy dx + 2xy dy = \iint_{\text{oblast } D} (2y - 3x) dx dy = \int_{-2}^4 \int_1^2 (2y - 3x) dy dx = \int_{-2}^4 (y^2 - 3xy) \Big|_1^2 dx$$

$$= \int_{-2}^4 (4 - 6x) - (1 - 3x) dx = \int_{-2}^4 (3 - 3x) dx = 3x - \frac{3x^2}{2} \Big|_{-2}^4 = 12 - 24 - (-6 - 6) = -12 + 12 = 0$$

(0,1) an napatay ehanon kin c nako $\oint_C \ln(1+y) dx - \frac{xy}{1+y} dy$

4.6

(0,0), (2,0)



$P = \ln(1+y)$

$P_y = \frac{1}{1+y}$

no) : p, n

$Q = -\frac{xy}{1+y}$

$Q_x = -\frac{y}{1+y}$

$\oint_C \ln(1+y) dx - \frac{xy}{1+y} dy = \iint_D \left(\frac{-y}{1+y} - \frac{1}{1+y} \right) dy dx = \iint_D -\frac{y+1}{y+1} dy dx$: nre kwen o, p, n

$= \int_0^2 \int_0^{-2x+4} -1 dy dx = \int_0^2 -y \Big|_0^{-2x+4} dx = \int_0^2 (2x-4) dx = x^2 - 4x \Big|_0^2 = 4 - 8 = -4$

$x^2 + y^2 = R^2$ kwen kin c nako $\oint_C (2xy - y) dx + x^2 dy$

4.7

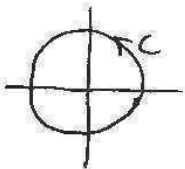
$P = 2xy - y$

$P_y = 2x - 1$

nre kwen ehanon : p, n

$Q = x^2$

$Q_x = 2x$



: nre kwen o, p, n

$\oint_C (2xy - y) dx + x^2 dy = \iint_{x^2 + y^2 \leq R^2} (2x - (2x - 1)) dx dy = \iint_{x^2 + y^2 \leq R^2} 1 dx dy = \text{nre kwen} = \pi R^2$